

## Fiche de révision n°4 - L'Orient ancien (5èmes, 4èmes et 3èmes)

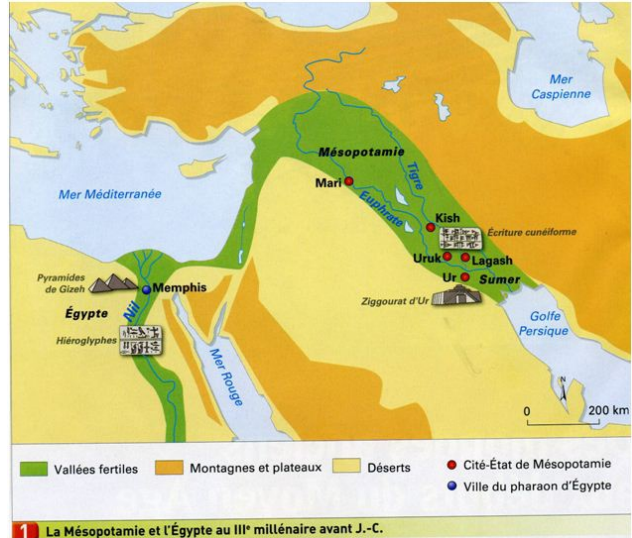
Lis bien cette fiche, Essaie ensuite de répondre mentalement aux questions en bas de page.

L'Orient ancien fut le lieu au III<sup>ème</sup> millénaire avant J.-C (-3000 ; -2000) de l'essor de grandes civilisations utilisant l'écriture et de l'apparition de **grands Etats** parmi les premiers de l'Histoire. L'écriture était apparue vers -3200 dans ces régions. L'apparition des premières écritures a marqué le **début de l'Histoire** et la fin de la Préhistoire.

La **Mésopotamie** était une région traversée par deux grands fleuves, le **Tigre et l'Euphrate**, dont les plaines **irriguées** aux **terres fertiles** avaient permis l'essor d'une agriculture performante. La **Mésopotamie** était divisée en **cités-Etats** dirigées par des **rois héréditaires** considérés par la population comme les **représentants du principal dieu local**. Les rois font construire des temples pour ces dieux. Au centre de ces temples, de hautes tours sont érigées : les **ziggourats**. A la fin du III<sup>ème</sup> millénaire, certaines cités ont réussi à étendre leur domination sur l'ensemble de la Mésopotamie : ce fut le cas **d'Akkad** puis **d'Ur**.



### L'Orient ancien au III<sup>ème</sup> millénaire avant J.-C



Vérifie que tu sais situer la Mésopotamie, l'Égypte, le Nil, le Tigre, l'Euphrate et les principales cités-Etats de Mésopotamie.

La richesse de l'**Égypte** au III<sup>ème</sup> millénaire provient de son agriculture qui bénéficie de **terres irriguées** et **fertilisées** chaque année par l'importante **crue du Nil**. Au **III<sup>ème</sup> millénaire**, l'Égypte est un **vaste royaume** unifié, dont le territoire correspond essentiellement à la **vallée du Nil** et au **delta** de ce fleuve. Le roi d'Égypte, appelé **pharaon**, est un roi héréditaire qui se fait passer comme  **fils du dieu Rê**. Pour contrôler ce vaste territoire, le **Pharaon** s'appuie sur un grand ministre, le **vizir**, et un grand nombre de **fonctionnaires** (ceux qui travaillent pour la puissance publique, pour l'Etat) sachant lire et écrire : il s'agit des **scribes**.

En Mésopotamie et en Égypte, l'**écriture** joue un rôle important dans l'**administration** et dans la **vie religieuse**.

Les **cunéiformes** sont utilisés en Mésopotamie, les **hiéroglyphes** en Égypte.

**Je vérifie que j'ai compris l'essentiel en essayant de répondre mentalement à ces questions (toutes les réponses sont dans le texte ci-dessus)**

Durant quel millénaire les premières grandes civilisations utilisant l'écriture sont-elles apparues dans l'Orient ancien ?

Quelle région de l'Orient ancien était traversée par le Tigre et l'Euphrate ?

Quel verbe désigne l'action d'acheminer l'eau dans les champs ?

De qui les rois des cités-Etats se disaient-ils les représentants ?

Donne le nom de deux cités-Etats qui ont étendu leur domination sur l'ensemble de la Mésopotamie à la fin du III<sup>ème</sup> millénaire.

Quel est le nom de la région et de l'Etat qui s'étendait le long de la vallée du Nil ?

Sous quel nom le roi d'Égypte était-il connu ?

A quel phénomène naturel l'Égypte devait-elle la fertilité de ses terres ?

Comment qualifie-t-on une terre sur laquelle les plantes poussent bien ?

De quel dieu le pharaon d'Égypte affirmait-il être le fils ?

Quel nom donnait-on au grand ministre du pharaon ?

Quel événement a marqué le début de l'Histoire ?

Comment appelle-t-on dans un Etat les hommes et femmes qui travaillent pour l'Etat ?

Quel grand fleuve coule en Égypte ?

Comment appelait-on les hommes qui savaient lire et écrire dans l'Égypte antique, qui travaillaient souvent pour le pharaon ?

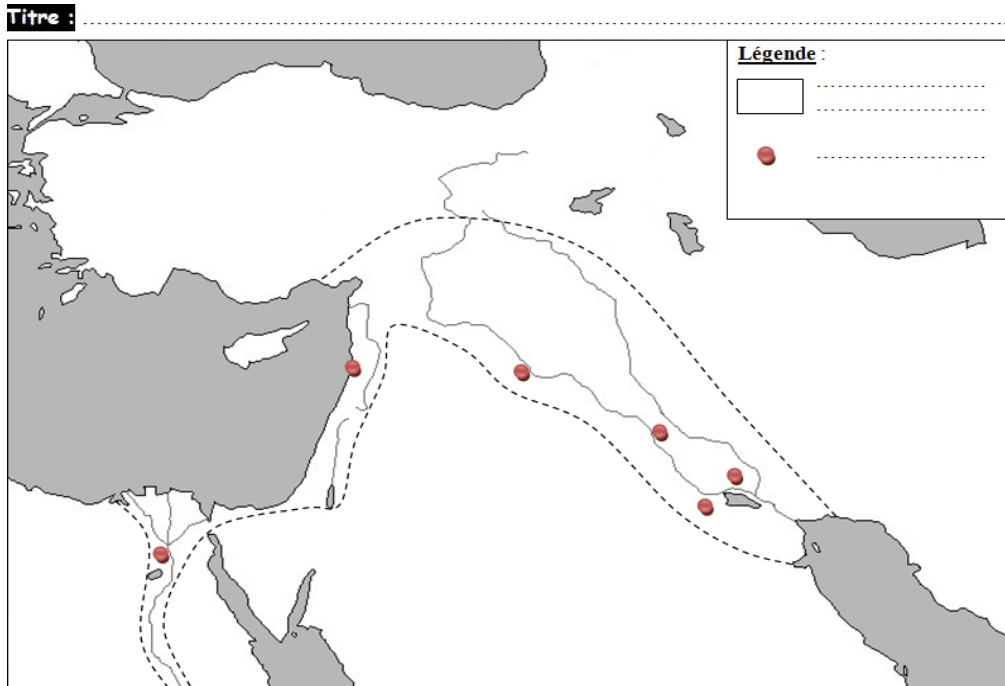
Quelle écriture était utilisée en Mésopotamie ?

Quelle écriture était utilisée en Égypte antique ?

Durant quel millénaire les premières grandes civilisations sont apparues ?

### Fiche d'évaluation n°4 – L'Orient ancien

Complète le fond de carte suivant en situant la Mésopotamie, l'Egypte, Memphis, deux cités-Etats de ton choix, le Nil, le Tigre et l'Euphrate.

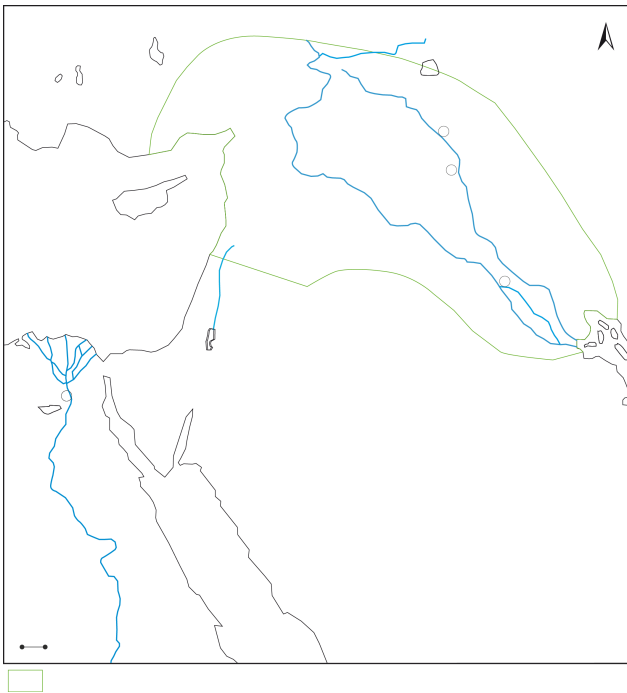


#### Réponds aux questions suivantes sans rédiger de phrases

- 1-Durant quel millénaire les premières grandes civilisations utilisant l'écriture sont-elles apparues dans l'Orient ancien ?  
.....
- 2-Quelle région de l'Orient ancien était traversée par le Tigre et l'Euphrate ? .....
- 3-Quel verbe désigne l'action d'acheminer l'eau dans les champs ?.....
- 4-De qui les rois des cités-Etats se disaient-ils les représentants ?.....
- 5-Donne le nom de deux cités-Etats qui ont étendu leur domination sur l'ensemble de la Mésopotamie à la fin du IIIème millénaire. ....
- 6-Quel est le nom de la région et de l'Etat qui s'étendaient le long de la vallée du Nil ?.....
- 7-Sous quel nom le roi d'Egypte était-il connu ? .....
- 8-A quel phénomène naturel l'Egypte devait-elle la fertilité de ses terres ?.....
- 9-Comment qualifie-t-on une terre sur laquelle les plantes poussent bien ?.....
- 10-De quel dieu le pharaon d'Egypte affirmait-il être le fils ? .....
- 11-Quel nom donnait-on au grand ministre du pharaon ? .....
- 12-Quel événement a marqué le début de l'Histoire ?.....
- 13-Comment appelle-t-on dans un Etat les hommes et femmes qui travaillent pour l'Etat ?.....
- 14-Quel grand fleuve coule en Egypte ?.....
- 15-Comment appelait-on les hommes qui savaient lire et écrire dans l'Egypte antique, qui travaillaient souvent pour le pharaon ? .....

**Evaluation sur la fiche n°3- Les Hébreux et la naissance du Judaïsme**

**1- Complète la carte suivante en reportant les mots suivants: Mésopotamie, Canaan, Mer Morte, Egypte, Sinäi, Mer Rouge, Mer Méditerranée.**



**2-Réponds aux questions suivantes sans faire de phrases**

- a-Comment appelle-t-on une religion dans laquelle il n'y a qu'un Dieu ? .....
- b-Quelle est la première grande religion monothéiste apparue dans l'Histoire ? .....
- c-Quel peuple de l'Antiquité est à l'origine de cette religion ? .....
- d-Quel est le livre qui présente l'Histoire largement légendaire de ce peuple? .....
- e-Dans quel pays ce peuple vivait-il avant et après sa captivité en Egypte ?.....
- f-Quel est le plus grand prophète de cette religion qui, d'après la Bible, aurait libéré son peuple d'Egypte ?  
.....
- g-Quel miracle réalisé par ce prophète est présenté dans la Bible comme ayant permis la fuite d'Egypte ?  
.....

- h- Quel est le nom de l'Etat fondé par les Hébreux en terre de Canaan après leur sortie d'Egypte ?  
.....
- i- Quel est le roi le plus célèbre de ce royaume, qui vécut au Xe siècle ? .....
- j- Quel grand monument fut construit sous ce roi à Jérusalem ?.....
- k-Quelles pierres, sur lesquelles étaient gravés les dix commandements, étaient conservées dans ce

bâtiment ?.....

l-Quelle était la capitale de ce royaume ? .....

m-Que décida l'empereur romain Titus en 70 ap. J.C ?.....

n-Quelle fut la conséquence de cette destruction ? .....

o-A quels millénaires le temps de la Bible correspond-il ? .....