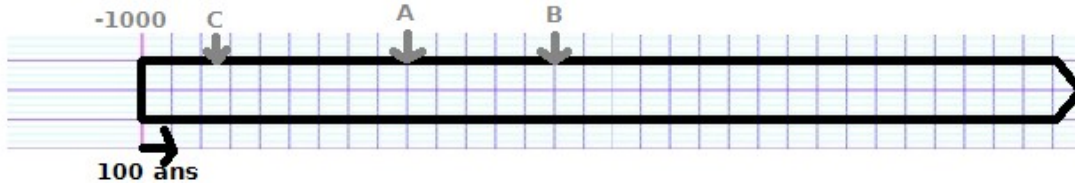



N'écris rien sur cette feuille ; pour faire ces exercices tu devras reproduire chacune de ces frises

Exercice 1



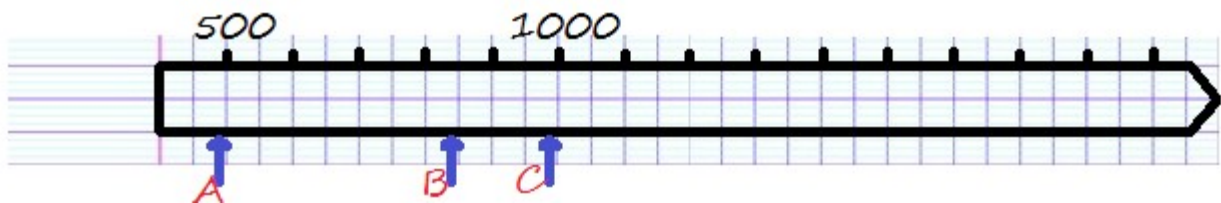
a-Indique où se situe l'an 1. b - A quelle années correspondent les lettres A, B et C. c- Colorie en rouge le 1^{er} s. av. J.-C. d- Colorie en bleu le 3^{ème} siècle avant J.-C. e- Colorie en jaune le 5^{ème} siècle avant J.C. f-Combie d'années séparent C et A, C et B, A et B ?

Exercice 2




a-A quelles années correspondent les lettres A, B, C, D et E. b- Combien d'années séparent A et B, B et C, B et D, A et E. c- Situe à l'aide d'une flèche les quatre dernières décennies du X^{ème} siècle. d- Colorie en rouge la deuxième décennie du XI^{ème} siècle.

Exercice 3



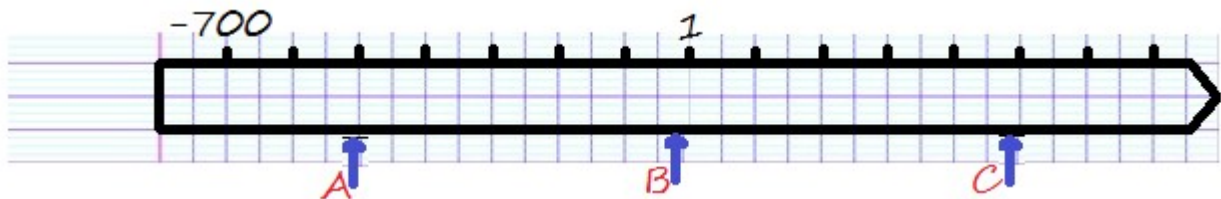
a- A quelles années correspondent les lettre A, B et C ? b- Colorie en rouge le VI^{ème} siècle. c-Colorie en bleu le VIII^{ème} siècle. d- Colorie en jaune le XII^{ème} siècle. e- A l'aide d'une flèche, situe le Moyen-âge (476-1492). f- Situe les événements suivants : début de la Guerre de Cent ans (1337) ; Magellan part pour son tour du Monde (1519).

Exercice 4



a- A quelle année correspond la lettre A ? b-Colorie en rouge la période de la Première Guerre mondiale (1914-1918). c-Colorie en bleu la Seconde Guerre mondiale (1939-1945). d- Situe les événements suivants : l'abolition de l'esclavage dans les colonies françaises (1848) ; la Réunion devient un département français (1946) .

Exercice 5



a-A quelles années correspondent les lettres A, B et C ? b- Colorie en rouge le 1^{er} siècle avant J.-C. c- Colorie en bleu le III^{ème} siècle avant J.-C. d- Situe les événements suivants : Alesia (-52) ; la chute de l'Empire romain d'Occident (476) ; e- Situe à l'aide de flèches les périodes suivantes : la République romaine (-509 ; -27) ; l'Empire romain (-27 ; 476) ; f- Colorie en jaune la Pax Romana.