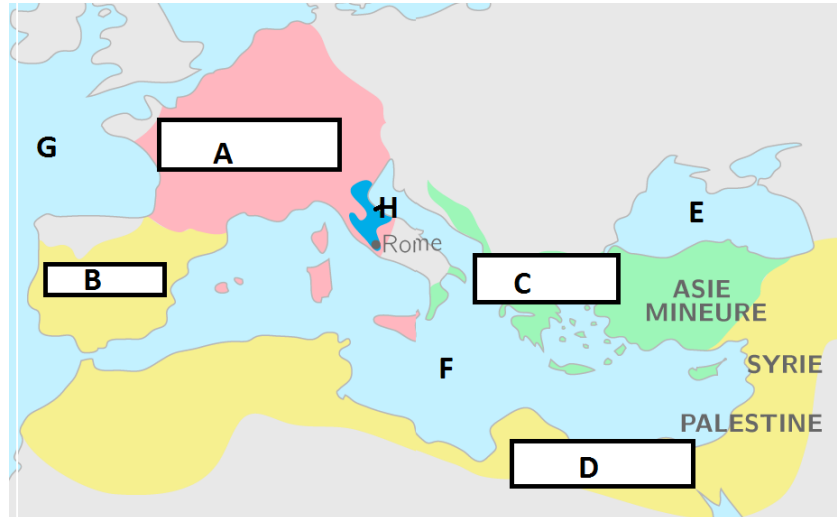


L'Empire byzantin : exercices pour préparer l'évaluation

Exercice n° 1 - Situer les empires

- a-A quel empire correspond la lettre A vers l'an 800 ?
- b-A quel empire correspond la lettre C vers l'an 800 ?
- c- Quel est l'autre nom de cet empire ?
- d- Comment cet empire est-il né ?



Exercice n° 2 – Se situer dans le temps

Réalise une frise chronologique de 14 carreaux qui représentera la période 200 – 1600 ; 1 carreau = 100 ans . Tu feras apparaître les événements suivants :

- La fondation de Constantinople (vers 330)
- Le partage de l'Empire romain en deux parties.
- Le règne de Justinien.
- La conversion des Slaves (IX ème et Xème siècles)
- Le schisme entre catholiques et orthodoxes.
- La prise de Constantinople par les Turcs.

Exercice n°3 – La nouvelle Rome

- a- Quelle était la capitale de l'empire byzantin ?
 - b- Où se situe-t-elle ?
 - c- D'où vient son nom ?
 - d- D'après tes connaissances, pourquoi s'agissait-il d'une « nouvelle Rome » ?
- Pour répondre, évoque les principaux héritages romains que comptait la ville au Moyen-âge.

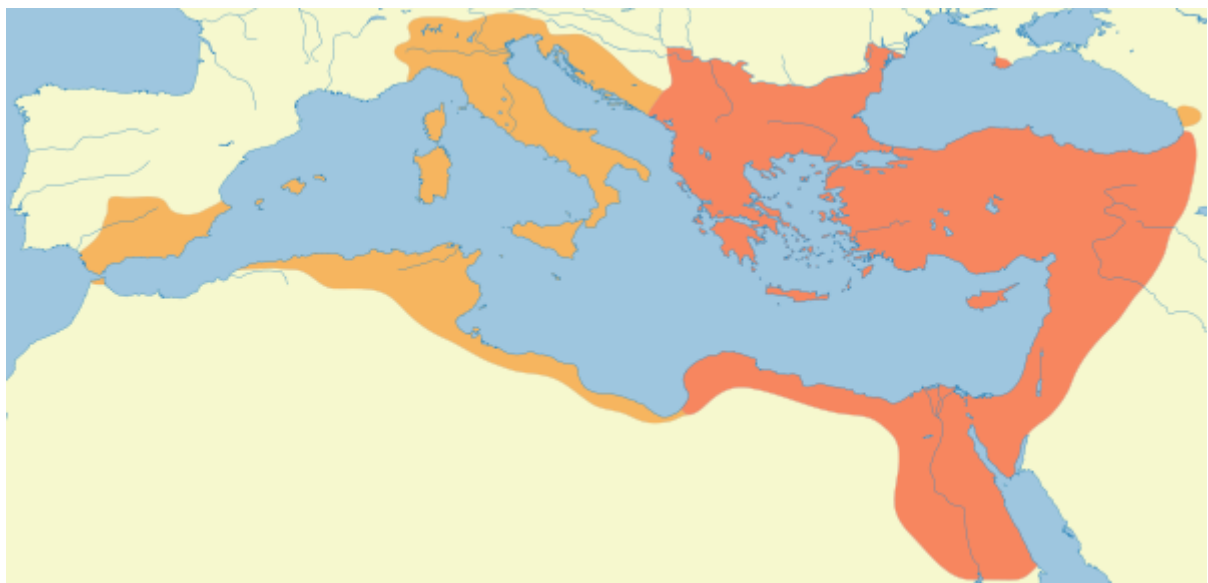


Exercice n° 3



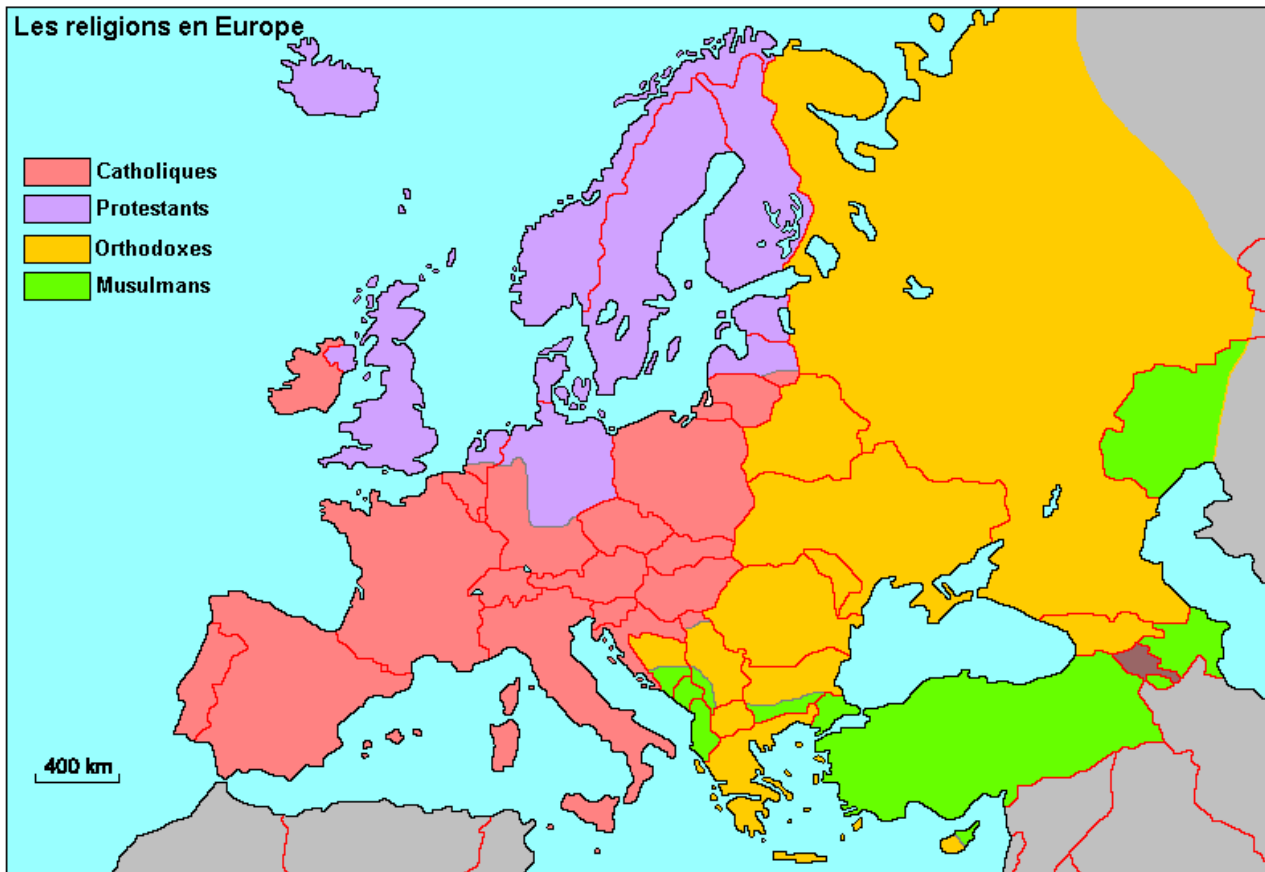
Rédige un paragraphe pour présenter ce monument historique (donne son nom, explique ce que signifie ce nom en grec, situe cette église, explique quand elle a été construite et par sous quel empereur, présente ses principales caractéristiques ; explique en quoi cette église fut transformée suite à la victoire des Ottoman en 1453).

Exercice n° 4 - La reconquête du VI^{ème} siècle



- a- Quel empereur a reconquis au VI^{ème} siècle les régions qui apparaissent ici en orange ?
- b- Dans quelle ville d'Italie de célèbres mosaïques ont été réalisées suite à cette reconquête ?

Exercice n°5 - La carte des religions de nos jours



A. HOUOT - Aix-Marseille

a- D'après tes connaissances historiques, comment expliquer la localisation des régions orthodoxes de nos jours ?

b- Quel événement historique explique que l'Asie Mineure (la Turquie actuelle) et la région d'Istanbul sont de nos jours musulmans ?

Exercice n°6 – Les missions évangélisatrices carolingiennes et byzantines




- Rappelle ce que sont les évangiles et l'étymologie de ce mot (de quel mot grec vient-il ?)
- Que signifie le mot « évangéliser » ?
- Quels peuples ont été évangélisés par les byzantins ?
- Quels sont les deux siècles durant lesquels ces conversions ont eu lieu ?

Exercice n° 7 – Complète le tableau suivant

	Église catholique au Moyen-âge	Église orthodoxe au Moyen-âge
Chef de l'Église		
Ils dirigent la messe		
La langue utilisée durant la messe		
Le plan sur lequel les églises sont construites		
Ville où réside le chef de l'Église		

Exercice n°8



a- Rédige un paragraphe pour présenter cette œuvre d'art (de quel type d'œuvre s'agit-il ? Où peut-on la contempler ? Quand a-t-elle été construite et sous le règne de quel empereur ? Que représente-t-elle ?)

b- Quelle civilisation avait développé ce type d'œuvre ?

Exercice n°9



a- Quel élément visible sur cette pièce byzantine rappelle la religion des empereurs ? Quelle est cette religion ?

b- Quel était le premier empereur romain à s'être converti à cette religion ?

Exercice n° 10 - La fin de l'empire Ottoman



Utilise cette carte et tes connaissances pour expliquer quand et comment l'Empire byzantin s'est effondré.

Exercice 11 – Rédige un paragraphe pour expliquer en quoi l’empire byzantin était un empire chrétien.