

Exercice 1 - Complète le planisphère en faisant apparaître les trois principaux foyers de population, les principaux déserts; tu donneras un titre à cette carte. (voir grand quiz sur le programme de 6ème de géographie sur raine d'Hérodote)



Exercice 2 - Réponds aux questions suivantes

a-Combien y a-t-il d'hommes sur terre en 2016?

b-La population mondiale est-elle également uniformément répartie sur terre? Utilise le planisphère complété ci-dessus pour répondre à cette question.

Exercice 3 - A quelle notion étudiée en cours chacune des définitions suivantes correspond-elle?

1-Nombre de naissances pour mille habitants par an

2-Nombre de décès pour mille habitants par an

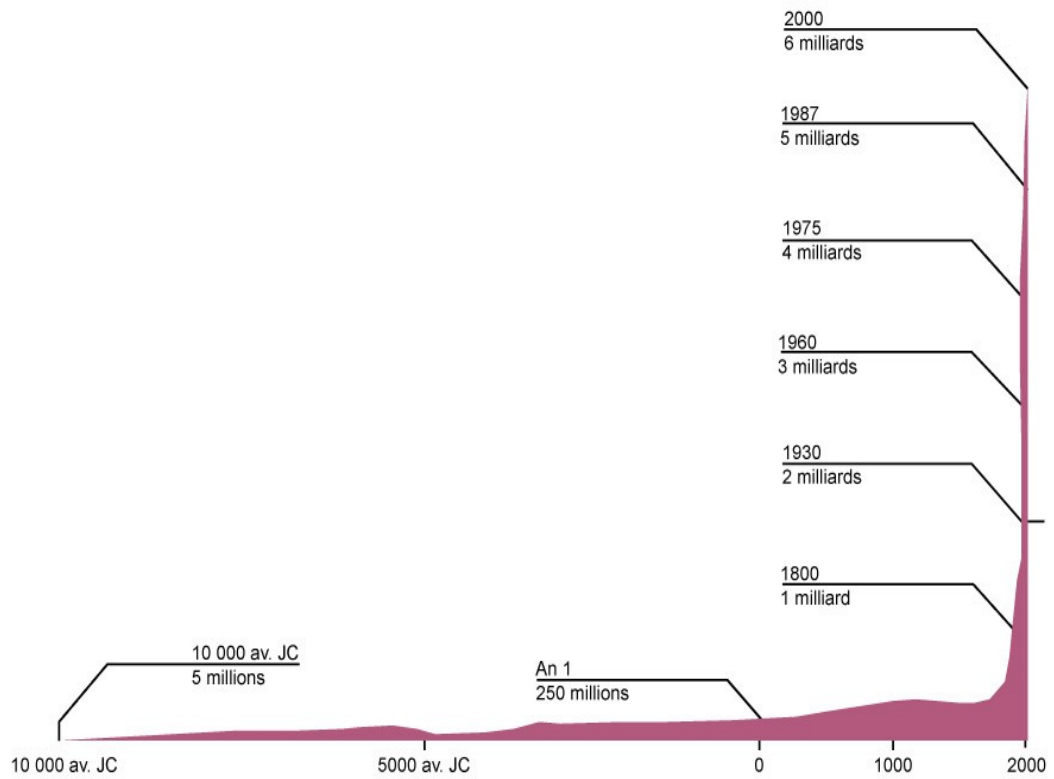
3- Augmentation du nombre d'habitants sur un territoire

4-Taux de natalité moins le taux de mortalité

5-Nombre moyen d'enfants par femme de 15 à 50 ans

6-Nombre d'enfants de moins de un an décédés sur mille naissance en un an **(6 points)**

Exercice 4



a-Qu'appelle-t-on la croissance démographique ?

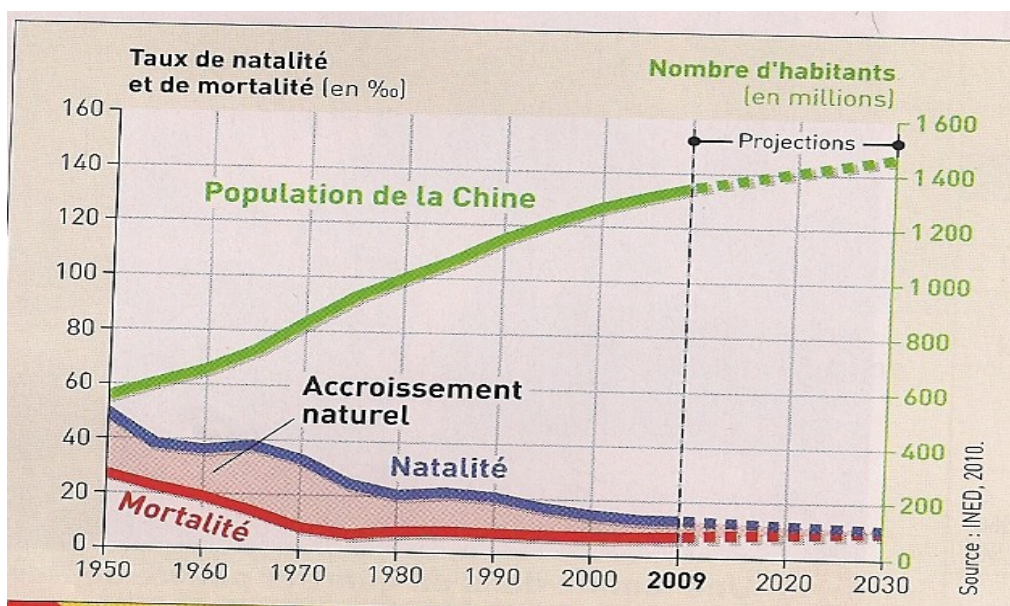
b-Comment la population mondiale a-t-elle évolué entre l'an 1 et 1800 ?

c-Comment a-t-elle évolué après cette date ?

d-Quel nom donne-t-on à ce phénomène ?

Exercice 5 - Réponds aux questions ci-dessous en utilisant ce graphique

La croissance démographique en Chine depuis 1950



a-Complète le tableau ci-dessous en lisant le graphique.

	1950	1960	1970	1990	2009
Taux de natalité					
Taux de mortalité					
Accroissement naturel					
Population totale					

b-La Chine a-t-elle connu une importante croissance démographique entre 1950 et 2009?

c-Comment expliquer cette croissance démographique? Tu devras utiliser pour répondre les notions étudiées en classe (taux de natalité, taux de mortalité, accroissement naturel) et des chiffres précis prélevés sur ce graphique.

d-Pour quelle raison la population chinoise va-t-elle augmenter moins rapidement après 2010?

Exercice 6 - Utilise le tableau ci-dessous pour répondre aux questions suivantes (2 points)

Développement et croissance démographique en Chine

	1950	2009
Nombre d'habitants	554000	1 300 000 000
Espérance de vie	39 ans	73 ans
IDH	0.55	0.772
Part de personnes sachant lire et écrire	66%	89%
Mortalité infantile	195 ‰	20‰
Fécondité	6.6	1.7

A-Rappelle les définitions d'IDH et de développement.

b-La Chine s'est-elle développée entre 1950 et 2009? Justifie en utilisant plusieurs chiffres prélevés dans le tableau.

c-Quels aspects du développement sont à l'origine de la forte croissance démographique qu'a connue la Chine entre 1950 et 1980?

d-Quel aspect du développement a entraîné la forte baisse du taux de natalité et permet de prévoir un fort ralentissement de la croissance démographique?

Exercice 7- Réponds aux questions ci-dessous en utilisant les deux tableaux ci-dessous

Document 1 : l'IDH de quelques pays en 2012

	France	États-Unis	Japon	Madagascar
IDH	0,89	0,94	0,91	0,48

Document 2 : Pauvreté et équipement des maisons à Madagascar

	% de la population
Accès à l'eau :	
Eau courante	20.2%
Autre source d'approvisionnement	79.4%
Assainissement:	
Toilettes avec chasse d'eau	25%
Latrines creusées	50.3%
Aucune toilette	24.4%
Eclairage :	
Réseau d'électricité	13.8%
Pétrole	74.3%
Bougie	7.1%

Source : Conférence « Développement économique, services sociaux et pauvreté à Madagascar », 11 juin 2003, Antananarivo.

1-Les documents ci-dessus sont-ils des graphiques ou des tableaux à double entrée ?

2-Rappelle la définition d'IDH.

3-Madagascar est-elle un pays développé ou très peu développé ? Utilise les deux documents ci-dessus pour **justifier** ta réponse que tu présenteras sous forme de **paragraphe** (ne passe pas à la ligne entre les phrases).

Exercices 8 - Réécris les phrases suivantes en remplaçant les passages soulignés par la notion adéquate.

En Inde la population des villes progresse très rapidement en raison d'un départ massif des habitants des campagnes vers les villes.

Dans les pays les moins développés, globalement situés au sud, l'IDH est compris entre 0,4 et 0,8.

De nombreux pays du Sud voient s'améliorer rapidement les conditions de vie de leurs habitants.

La Chine est l'un des pays du Sud qui se développent rapidement.

Bombay est l'une des très grandes métropoles indiennes.

On trouve à Bombay le plus grand quartier insalubre composé de petites maisons construites en matériaux de récupération.

L'un des changements géographiques majeurs qui durent depuis plusieurs décennies et qui transforment les territoires de nos jours est l'urbanisation.

Moins de la moitié de la population mondiale vit de nos jours dans des espaces qui ne sont pas urbains.

Plus de la moitié de la population mondiale vit de nos jours dans des espaces qui ne sont pas des campagnes.

Il existe sur terre de vastes régions très peu densément peuplées.

Il existe sur terre de vastes régions densément peuplées où se concentre la plus grande partie de la population mondiale.

L'une des dynamiques géographiques majeures de nos jours est la concentration des hommes et des activités dans les métropoles.

Il y a de plus en plus d'hommes qui vivent sur les espaces situés en bord de mer.

L'une des dynamiques géographiques majeures de nos jours est la concentration des hommes et des activités sur les littoraux.

La pauvreté caractérisée par des revenus très inférieurs à la moyenne existe dans les pays les plus développés : en France elle concerne 12% de la population.

La production de richesses produites chaque année dans les pays riches est beaucoup plus importante que dans les pays du Sud.

Les pays émergents ont vu ces dernières décennies leur production de richesse par an et par habitant s'accroître très rapidement.

L'Inde a connu encore de nos jours une importante augmentation de sa population.

Le nombre d'habitants sur terre a connu une augmentation extrêmement rapide et importante depuis 1800.

Cette croissance démographique a été causée par la baisse rapide du nombre de décès pour mille habitants par an tandis que le nombre de naissances pour mille habitants chaque année baissait beaucoup plus lentement : ceci a entraîné une forte différence entre le taux de natalité et le taux de mortalité pendant plusieurs dizaines d'années.

Les inégalités entre territoires riches et moins riches existent quelque soit la dimension des territoires que l'on étudie.

Quand on étudie la répartition de la richesse et de la pauvreté dans le monde entier, on observe que la richesse se concentre au Nord.

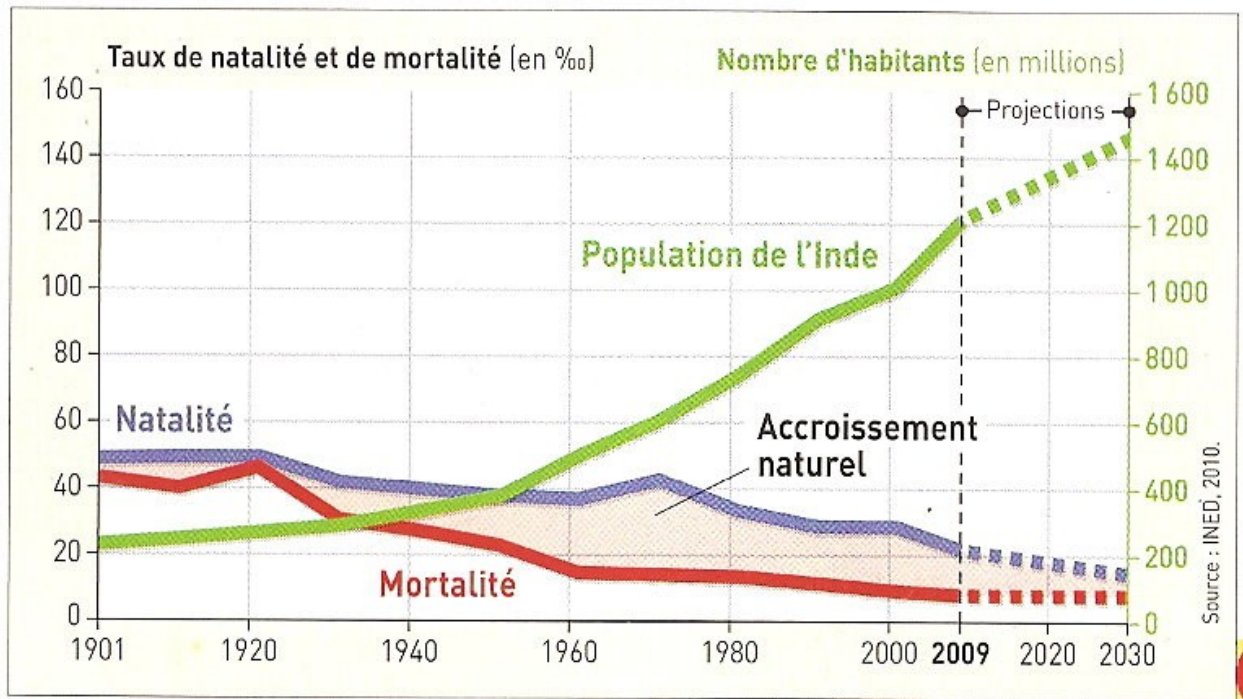
Quand on étudie la répartition de la richesse dans les pays, on observe que certaines régions sont plus riches.

Quand on étudie la répartition de la richesse dans les villes on observe que certains quartiers sont plus pauvres que d'autres.

Le nombre moyen d'enfants par femme en âge de procréer est encore élevé dans la plupart des pays d'Afrique subsaharienne.

Le nombre d'enfants mourant avant l'âge d'un an sur mille naissances a beaucoup diminué dans les pays du Sud ces dernières décennies.

Exercice 9 – La croissance démographique en Inde depuis 1900



Complète le tableau suivant à l'aide du graphique ci-dessus.

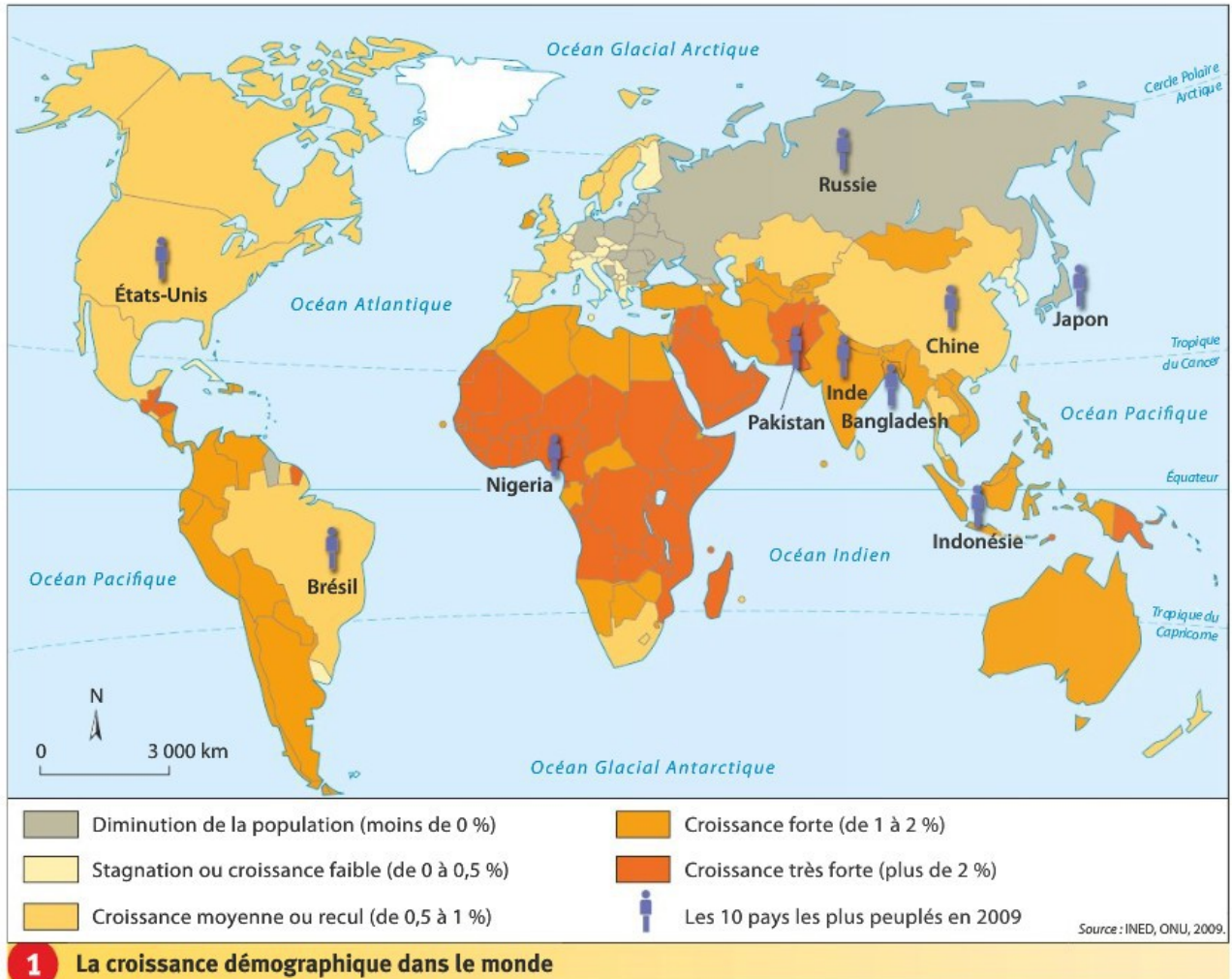
	1901	1920	1960	1980	2009	Projection pour 2030
Taux de natalité						
Taux de mortalité						
Accroissement naturel						
Nombre d'habitants (millions)						

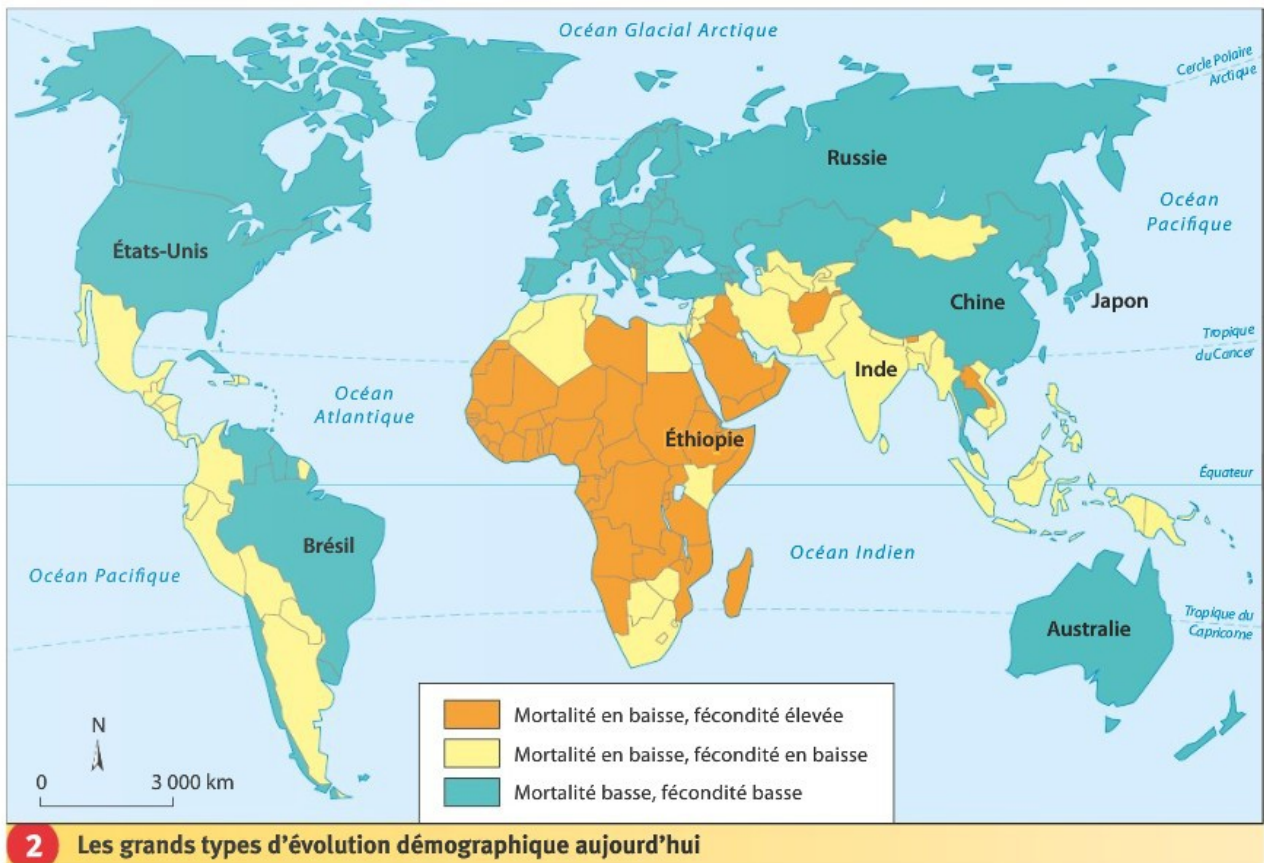
Réponds aux questions suivantes :

- 1-La croissance démographique en Inde était-elle forte au début du Xxème siècle ?
- 2-Comment peux-tu l'expliquer ?
- 3-Comment a évolué la population indienne entre 1950 2009 ?
- 4-Comment peux-tu l'expliquer ?

Exercice 10 – la croissance démographique dans le monde de nos jours

Utilise les deux cartes ci-dessous pour répondre aux questions en bas de page.





- 1-Comment a évolué la population mondiale entre l'an 1 et l'an 1800, soit en 1800 ans?
- 2-Par combien la population mondiale a-t-elle été multipliée entre 1800 et 2016?
- 3-Comment expliquer cette explosion démographique ?
- 4-Tous les pays du monde connaissent -ils la même croissance démographique de nos jours?
- 5-Comment s'explique la forte croissance démographique des pays d'Afrique subsaharienne?
- 6-Où se situent ces pays dans leur transition démographique?
- 7-Comment expliquer la faible croissance démographique des pays d'Europe?
- 8-Où se situent-ils dans leur transition démographique?